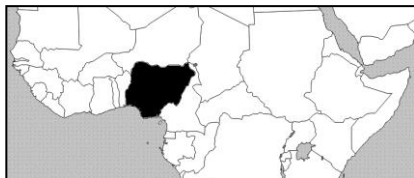


25. Выберите верное утверждение, характерное для африканского государства, выделенного на фрагменте карты.



- А) Является одним из крупнейших мировых экспортеров меди.
 Б) По форме правления является унитарным.
 В) Самое крупное по численности населения государство на материке.
 Г) Омывается водами Индийского океана.
 Д) Столица этого государства город Лагос.

26. Государственный флаг этого государства имеет отличные друг от друга лицевую и обратную стороны. На лицевой (главной) стороне флага изображен национальный герб страны с официальным названием государства. На оборотной стороне флага - печать казначейства. О флаге какого государства идет речь?

- А) Бразилия. Б) Ватикан. В) Парагвай. Г) Египет. Д) Индия.

27. Эта птица семейства зимородковых известна благодаря крикам очень похожим на человеческий хохот. Звук этого смеха стал позывным австралийского радио. Австралийский монетный двор изобразил эту птицу на реверсе серебряной монеты (см. рис.).



- А) Киви. Б) Кукабара. В) Лирохвост. Г) Страус Эму. Д) Райская птица.

28. Имя этого ученого, одного из основоположников океанологии, еще при его жизни было присвоено 12 географическим объектам на земном шаре. О каком ученом-географе идет речь?

- А) Н. М. Пржевальский. Б) И. Д. Черский. В) Н. Н. Миклухо-Маклай.
 Г) О. Ю. Шмидт. Д) Ю. М. Шокальский.

29. Определите государство по описанию и выберите правильный вариант ответа. Унитарная европейская республика, имеющая выход к морю. Для неё характерны низкий естественный прирост и невысокая, по европейским меркам, плотность населения. Из полезных ископаемых промышленное значение имеют горючие сланцы, на использовании которых в качестве топлива, основано энергетическое хозяйство страны.



30. Этот пролив, названный в честь британского корабельного врача, соединяет два океана и отделяет главный остров страны от материковой части. Из-за целого ряда странных происшествий пролив называют вторым Бермудским треугольником, однако эти инциденты можно объяснить сильными ветрами и мощными течениями, которые наблюдаются в проливе. О каком проливе идет речь?

- А) Гибралтарский пролив. Б) Басов пролив. В) Магелланов пролив.
 Г) Девисов пролив. Д) Пролив Дарданеллы.

Конкурс организован Общественным объединением «Белорусская ассоциация «Конкурс».

220045, г. Минск, ул. Яна Чечота, 16 тел. (017) 375 66 17, 375 36 23
 e-mail: info@bakonkurs.by http://www.bakonkurs.by/

Унитарное предприятие «Издательский центр БА «Конкурс». Заказ 49. Тираж 6300 экз. Минск. 2020 г.

Конкурс по географии «ГЛОБУСЁНОК-2020»



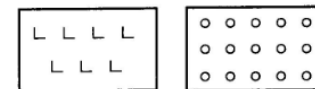
Среда, 28 октября 2020 г.

- продолжительность работы над заданием 1 час 15 минут;
- на каждый вопрос имеется только один правильный ответ;
- на старте участник получает авансом 30 баллов;
- каждый правильный ответ оценивается тремя, четырьмя или пятью баллами; количество баллов, которые набирает участник, отвечая на вопрос правильно, определяется сложностью вопроса; сложность вопроса определяется по количеству участников, правильно ответивших на него; 10 наиболее лёгких вопросов оцениваются по 3 балла, 10 наиболее трудных вопросов – по 5 баллов, остальные 10 вопросов – по 4 балла;
- неправильный ответ оценивается четвертью баллов, предусмотренных за данный вопрос, и засчитывается со знаком «минус»;
- за вопрос, оставшийся без ответа, баллы не прибавляются и не вычитаются;
- максимальное количество баллов, в которое оценивается задание конкурса, – 150;
- самостоятельная и честная работа над заданием – главное требование организаторов к участникам конкурса;
- участнику запрещается пользоваться словарями, справочниками, учебниками, конспектами, иными письменными или печатными материалами, электронными носителями информации и устройствами связи; недопустимо обмениваться информацией с другими участниками; ручка, черновик, карточка и задание – это всё, что нужно для работы участнику;
- объём и содержание задания не предполагают его полного выполнения; в задании допускаются вопросы, не входящие в программу обучения;
- после окончания конкурса листок с заданием и черновик участник забирает с собой и сохраняет их до окончательного подведения итогов;
- результаты участников размещаются на сайте <http://www.bakonkurs.by/> через 1–1,5 месяца после проведения конкурса.

Задание для учащихся 10-11 классов

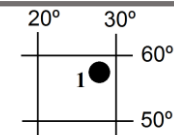
1. Условные знаки (см. рис.) обозначают:

- А) луг и лиственный лес. Б) редкий лес и болото.
 В) вырубленный лес и фруктовый сад.
 Г) буреломы и кустарники. Д) хвойный лес и болото.



2. С помощью фрагмента градусной сетки определите материк, на котором расположен объект, обозначенный точкой с цифрой 1.

- А) Африка. Б) Австралия. В) Северная Америка.
 Г) Южная Америка. Д) Евразия.



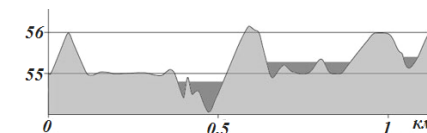
3. Укажите, чему равна амплитуда температур за указанный в таблице промежуток времени?

Месяц	июнь	июль	август	сентябрь	октябрь	ноябрь	декабрь
Средняя температура, °С	+15	+15	+14	+9	+7	+4	-2

- А) 17 °С. Б) 29 °С. В) 13 °С. Г) 15 °С. Д) 62 °С.

4. На гипсометрическом профиле (см. рис.) отображается ...

- А) изменение атмосферного давления.
 Б) изменение температуры воздуха.
 В) гидрологические особенности речной сети.
 Г) рельеф местности.
 Д) изменение влажности воздуха.



5. Какая из перечисленных стран имеет береговую линию как в Карибском море, так и в Тихом океане?

- А) Куба. Б) Сальвадор. В) Панама. Г) Белиз. Д) Ямайка.

6. По логотипу одного из флагманов промышленности Республики Беларусь определите основной вид продукции, который выпускает это предприятие.

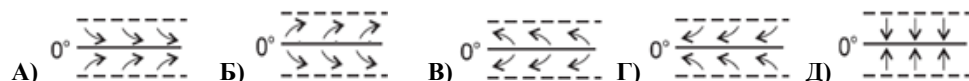


- А) Мотоциклы и велосипеды.
Б) Троллейбусы.
В) Седельные тягачи и автопоезда.
Г) Тракторы.
Д) Самосвалы грузоподъемностью более 100 тонн.

7. Планета Земля поворачивается на 60° за ...

- А) 8 часов. Б) 1 час. В) 30 минут. Г) 4 часа. Д) 3 часа.

8. На каком рисунке правильно указано направление пассатов?



9. Между горными хребтами этих гор расположен Йеллоустонский национальный парк. Это ...

- А) Скалистые горы. Б) Анды. В) Аппалачи. Г) Кавказ. Д) Атласские горы.

10. Как называются заросли вечнозеленых деревьев и кустарников, произрастающих на побережьях или в устьях рек, затопляемые во время приливов?

- А) Прерия. Б) Маквис. В) Пампа. Г) Скрэб. Д) Мангры.

11. Ниагарский водопад расположен на реке, соединяющей озера ...

- А) Эри и Онтарио. Б) Мичиган и Гурон. В) Верхнее и Мичиган.
Г) Гурон и Эри. Д) Верхнее и Гурон.

12. Среди перечисленных выберите координаты географического центра Республики Беларусь.

- А) 53° 31' С.Ш. и 28° 02' В.Д. Б) 66° 25' С.Ш. и 94° 15' В.Д.
В) 34° 35' Ю.Ш. и 58° 22' З.Д. Г) 33° 52' Ю.Ш. и 151° 12' З.Д.
Д) 43° 40' С.Ш. и 87° 15' В.Д.

13. Какой геологической эре соответствует четвертичный период?

- А) Архейской. Б) Палеозойской. В) Мезозойской.
Г) Кайнозойской. Д) Протерозойской.

14. Выберите вариант ответа, в котором правильно перечислены озера Беларуси с севера на юг.

- А) Освейское → Свитязь → Нарочь → Червоное.
Б) Освейское → Нарочь → Свитязь → Червоное.
В) Нарочь → Освейское → Червоное → Свитязь.
Г) Червоное → Нарочь → Свитязь → Освейское.
Д) Нарочь → Червоное → Свитязь → Освейское.

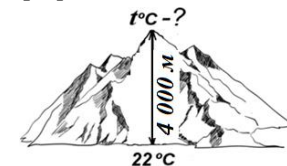
15. Выберите вариант ответа, в котором перечислены НЕ ледниковые формы рельефа.

- А) Камы, озы. Б) Маренные гряды, друмлины.
В) Зандровые равнины, трюги. Г) Дюны, барханы. Д) «Бараньи лбы», цирки.

16. Выберите верное соответствие «течение – океан».

- А) Западных ветров – Северный ледовитый океан. В) Куроисио – Тихий океан.
Б) Лабрадорское – Индийский океан. Г) Гольфстрим – Тихий океан.
Г) Калифорнийское – Атлантический океан.

17. Используя рисунок справа, решите задачу и выберите вариант ответа.



- А) -2 °С. Б) +2 °С. В) +12 °С. Г) -4 °С. Д) +4 °С.

18. На карте масштаба 1:50000 расстояние между объектами составляет 4 см. На карте какого масштаба это же расстояние между объектами составляет 10 см?

- А) 1:200000. Б) 1:20000. В) 1:400000. Г) 1: 5000. Д) 1: 400.

19. Для территории какого государства характерен муссонный климат?

- А) Индия. Б) Египет. В) Казахстан. Г) Боливия. Д) Канада.

20. Назовите столицу крупнейшего по площади латиноамериканского государства.

- А) Буэнос-Айрес. Б) Бразилиа. В) Мехико. Г) Сантьяго. Д) Каракас.

21. «Страна тринадцати месяцев солнца» – именно так называют это государство туристические справочники и плакаты, встречающие иностранцев в столичном аэропорту. Само название государства в переводе с греческого означает «Страна людей с обожженными солнцем лицами». О каком государстве идет речь?

- А) Канада. Б) Греция. В) Кипр. Г) Мальта. Д) Эфиопия.

22. Разгадайте ребус. Что означат в географии полученное слово?

- А) Веерообразное разветвленное устье крупной реки, образованное речными отложениями.
Б) Затопляемое воронкообразное устье.
В) Сухое русло пересыхающих рек в пустынях.
Г) Заросли вечнозелёных жестколистных и колочих кустарников.
Д) Осушенный и возделанный низменный участок побережья.



23. Определите, по какому признаку сгруппированы следующие государства: Нидерланды, Кувейт, Дания, Бельгия, Бруней.

- А) Расположены в Европе.
Б) По форме политико-территориального устройства являются унитарными.
В) Расположены в Южном полушарии.
Г) По форме правления являются монархиями.
Д) Являются крупнейшими импортерами нефти.

24. Какая из перечисленных столиц не является самым крупным по количеству населения городом страны?

- А) Эр-Рияд. Б) Джакарта. В) Лиссабон. Г) Минск. Д) Исламабад.